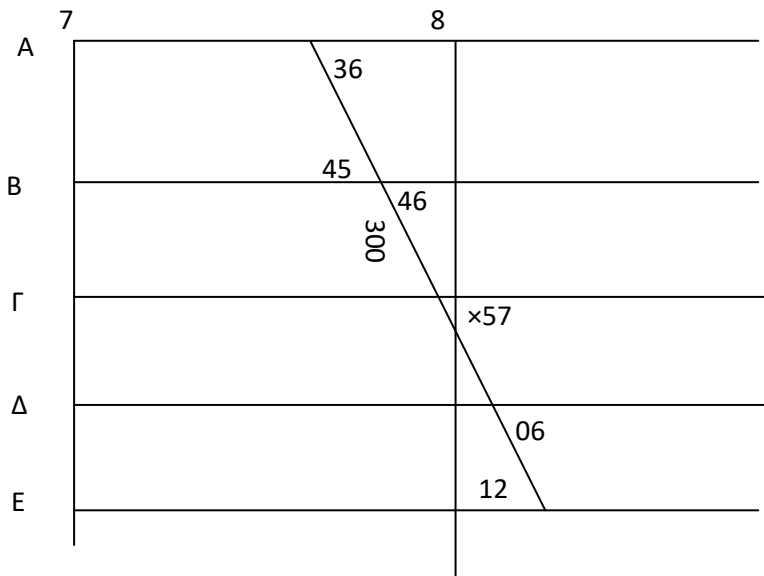


Γραφικοί πίνακες και σύνταξη δρομολογίων

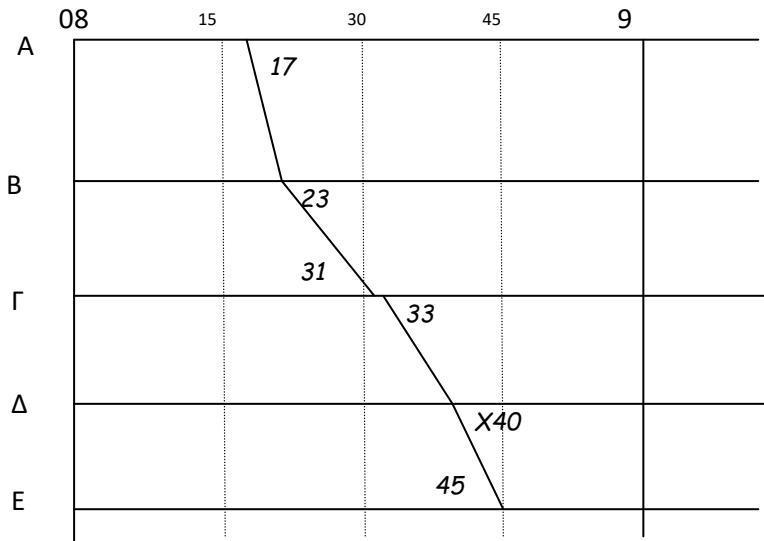
1. Συμπληρώστε τον πίνακα με το δρομολόγιο της αμ/χίας 300, με βάση το γραφικό πίνακα του σχήματος



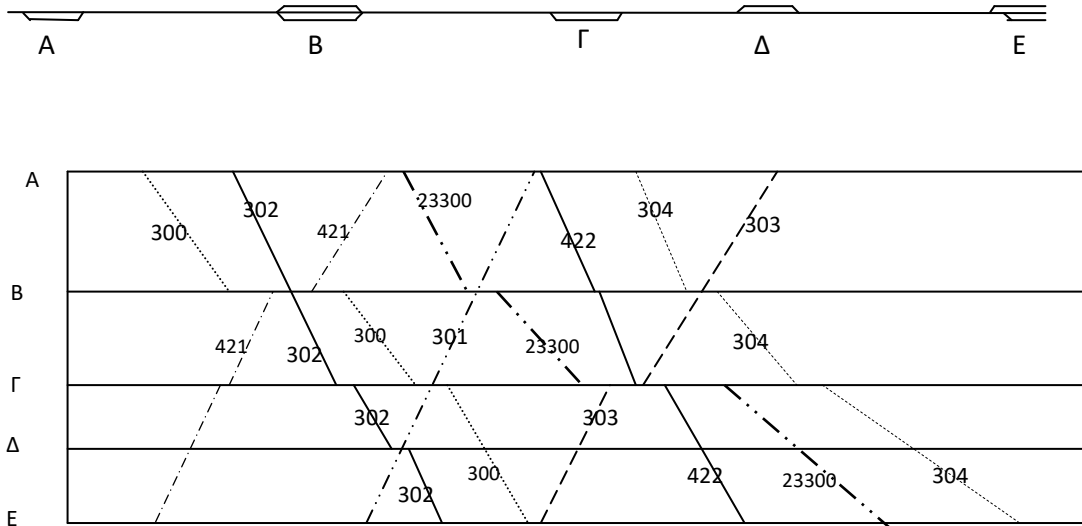
Σταθμός	Άφιξη	Αναχώρηση
A		7.36
B	7.45	7.46
Γ	x	7.57
Δ		8.06
Ε	8.12	

2. Σχεδιάστε το γραφικό πίνακα που αντιστοιχεί στο ακόλουθο δρομολόγιο

Σταθμός	Άφιξη	Αναχώρηση
A		08.17
B		08.23
Γ	08.31	08.33
Δ	x	08.40
E	08.45	



3. Στο ακόλουθο αδρό γραφικό δρομολόγιο, ο συντάκτης των δρομολογίων έχει υποπέσει σε ένα σφάλμα που καθιστά την εφαρμογή των δρομολογίων ανέφικτη. Ποιο είναι αυτό το σφάλμα; Ποιες αμαξοστοιχίες αφορά; Και γιατί;



Απάντηση: Στο σταθμό Γ εμφανίζεται η διασταύρωση και υπέρβαση

των αμαξοστοιχιών 23300, 303 και 422, δηλαδή στο σταθμό αυτό υπάρχουν

ταυτόχρονα τρεις αμαξοστοιχίες.

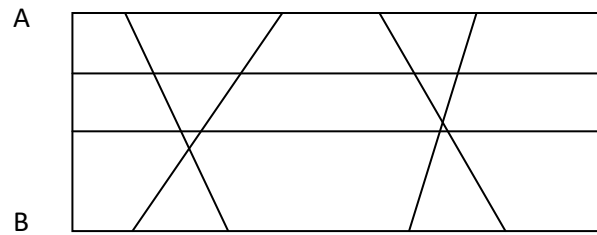
Όμως ο σταθμός διαθέτει μόνο δύο τροχιές και άρα ο σταθμός δε θα μπορέσει

να υποδεχτεί τις αμαξοστοιχίες αυτές

4. Στο ακόλουθο αδρό γραφικό δρομολόγιο υπολογίστε το αναγκαίο τροχαίο υλικό, στην περίπτωση όπου όλες οι αμαξοστοιχίες εκτελούνται από τον ίδιο τύπο υλικού:

A) Στην περίπτωση όπου και ο σταθμός A και ο σταθμός B αποτελούν έδρα τροχαίου υλικού (μηχανοστάσιο, δυνατότητα επιθεώρησης)

B) Στην περίπτωση όπου μόνο ο σταθμός A μπορεί να αποτελέσει έδρα τροχαίου υλικού και ο B επιτρέπει μόνο διανυκτέρευση του υλικού.



Στην πρώτη περίπτωση απαιτούνται δύο μονάδες τρ. υλικού

Στη δεύτερη περίπτωση απαιτούνται τρεις μονάδες τρ. υλικού

5. Ποια από τα παρακάτω δεδομένα είναι απολύτως αναγκαία για τη σύνταξη ενός δρομολογίου το οποίο θα ζητήσει η Σιδ/κή Επιχείρηση που εργάζεστε από τον Διαχειριστή Υποδομής (κυκλώστε τον /τους λατινικούς αριθμούς επιλογής σας):

I) Αριθμός διαθεσίμων θέσεων επιβατών

II) Ποσοστό πεδήσεως

III) Είδος φορτίου εμπορικής αμαξοστοιχίας (πχ. ορυκτά, χαρτικά κλπ)

IV) Είδος κινητήριας μονάδας (π.χ. προσδιορισμός σειράς – Ηλεκτράμαξα σειράς «120»)

V) Κατηγορία πεδήσεως (R, P κλπ)

VI) Βάρος συνθέσεως σε τόνους

VII) Διαθέσιμη στελέχωση (προσωπικό οδήγησης και συνοδείας)

VIII) Επιθυμητή ώρα αναχώρησης

IX) Αρίθμηση.

