

ΓΕΝΙΚΟΣ ΚΑΝΟΝΙΣΜΟΣ ΚΙΝΗΣΕΩΣ

ΜΕΡΟΣ Α- ΚΑΝΟΝΙΣΜΟΣ ΣΗΜΑΤΩΝ

Εισηγητής: Κ. Μ. Χρονάκης

Ερωτήσεις πολλαπλής επιλογής

Ερώτηση 1

Είστε σε αργούντα σταθμό Β, σας έχει δοθεί από τον προηγούμενο σταθμό Α «γραμμή ελεύθερη» έως τον επόμενο σταθμό Γ, το φωτόσημα εξόδου του σταθμού Β που βρίσκεστε είναι ερυθρό και φέρει λευκό «Σταυρό Αγίου Ανδρέα», τι κάνετε;

Επιλέξτε τη σωστή πρόταση

- (Α) Ρωτάω πάλι τον σταθμό Α εάν πρέπει να υπερβώ το ερυθρό φωτόσημα εξόδου του Σταθμού Β.
- (Β) Υπερβαίνω το ερυθρό εξόδου επειδή έχω γραμμή έως τον σταθμό Γ
- (Γ) Περιμένω να γίνει πράσινο
- (Δ) Σταθμεύω για 2 λεπτά στο φωτόσημα εξόδου του σταθμού Β

Ερώτηση 2

Έχετε σταθμεύσει σε ερυθρό φωτόσημα εισόδου. Ο σταθμός υπάγεται σε έλεγχο από Τηλεδιοίκηση, τότε θα ξεκινήσετε την πορεία σας;

Επιλέξτε τη σωστή πρόταση

- (Α) Περιμένω 2' λεπτά και εάν δεν έχει αλλάξει όψη το σήμα, το υπερβαίνω
- (Β) Περιμένω να ανάψει ένδειξη πορείας και το υπερβαίνω
- (Γ) Περιμένω να ανάψει ένδειξη πορείας ή το σήμα υποκατάστασης Σφ1.
- (Δ) Αναμένω από το προσωπικό της αμαξοστοιχίας να λάβω έγγραφη εντολή με το υποδ. 1001 και το υπερβαίνω.

Ερώτηση 3

Είστε η αμαξ. IC 56 και διέρχεστε από τον Σ.Σ. Αφιδνών, ο σταθμάρχης σας δίνει τηλεγράφημα (γραμμή) έως τον Σ.Σ. Αυλώνα, κατά την προσέγγιση σας στον Σ.Σ. Αυλώνα διαπιστώνεται τις εξής ενδείξεις στα φωτοσήματα:

Φωτοπρόσημα: Πράσινο

Φωτόσημα Εισόδου: Πράσινο

Φωτόσημα Εξόδου: Πράσινο

Ποια θα είναι η περαιτέρω ενέργεια σας:

Επιλέξτε τη σωστή πρόταση

- (Α) Καμία συνεχίζω την πορεία μου και διέρχομαι από τον Σ.Σ. Αυλώνα
- (Β) Μιλώ με τον Σταθμάρχη Αυλώνα για την περαιτέρω πορεία μου
- (Γ) Μειώνω ταχύτητα για στάθμευση
- (Δ) Εισέρχομαι στον σταθμό και αναμένω σταθμεύω για οδηγίες

Ερώτηση 4

Ποια η σημασία του σήματος 22 (βλέπε δίπλα)

Επιλέξτε τη σωστή πρόταση

- (Α) Δείκτης προσήματος, επισήμανση θέσης προσήματος
- (Β) Μειωμένο μήκος πεδησεως έως το κύριο σήμα
- (Γ) Αφύλακτη διάβαση
- (Δ) Σταθμεύσατε






Ερώτηση 5

Έχετε σταθμεύσει στην παρακαμπτήριο και σας δίδετε η εντολή να ξεκινήσετε και να διέλθετε, την αλλαγή εξόδου από πτέρνης προς την κύρια τροχιά. Επιλέξτε ποια θα πρέπει να είναι η όψη που θα πρέπει να δείτε στον φανό της αλλαγής 2;



Επιλέξτε τη σωστή πρόταση

- (Α) 
- (Β) 
- (Γ) 
- (Δ) 